



LICEO ANTONIO DE TOLEDO
COORDINACIÓN ACADÉMICA
PROCESO DE NIVELACIONES PRIMER SEMESTRE
2018
COMUNICATIVO GRADO PRIMERO
(Cuestionario de repaso)



Nombre: _____ Fecha: _____ Curso: _____

1- Escribe Tres Palabras Que Empiecen O Tengan La Letra:

T	V
Ñ	D
y	G

1. Lee atentamente:

- La piña es una fruta que tiene propiedades medicinales. Antiguamente los nativos de la isla de Guadalupe la utilizaban para mejorar la digestión y para contra los dolores de estómago después que comían carne en exceso.

La usaban, además, para curación de heridas y las mujeres la destinaban para la limpieza y cuidado de la piel.

Los principales países productores son: Hawái, Brasil, India, Pilipinas, México y Tailandia


❖ Responde las siguientes preguntas:

a. ¿Qué propiedades tiene la piña?


b. ¿Para qué la usaba la gente de la isla de Guadalupe?

2. Lee Y Dibuja


Camila plancha la blusa rosada de Felipe




El atleta corre en la pista



Susanita se rompió el brazo



La princesa está en el castillo



3. Interpreta y relata la historia:



- Inventa una narración con inicio, nudo y desenlace teniendo en cuenta la historia anterior

4. Subraya el sinónimo de las siguientes palabras:

- Bonito: Feo -Hermoso
- Alto: Grande - Pequeño
- Gordo: Flaco - Obeso
- Alegre: Feliz - Triste


6.DICTADO

7.Escribe 2 palabras que lleven las siguientes combinaciones.

BR: _____
CR: _____
FR: _____
PR: _____
TR: _____

BL: _____
CL: _____
FL: _____
PL: _____
TL: _____

8.. Escribe una frase con las siguientes imágenes:





9. Lee el siguiente texto.

PROTECCION EN INVIERNO

Las ranas y los sapos tienen la sangre fría, y con el frío del invierno, su cuerpo se enfría, aún más. Entonces tratan de calentarse, refugiándose en agujeros muy hondos que encuentran o excavan ellos mismos. Allí se quedan muy quietos. Poco a poco, su respiración se hace lenta y más adelante su corazón casi deja de latir. Cuando llegan a este estado, pasan largos días y noches sin moverse. Después, al llegar la primavera, comienzan a calentarse y salen de sus escondites para volver a su vida normal.
Realiza un dibujo que represente el texto leído.

10. Completa los artículos de las siguientes palabras.

_____ pelotas
_____ camisa
_____ conejo

_____ ratones
_____ niños
_____ pantalón



LICEO ANTONIO DE TOLEDO
COORDINACIÓN ACADÉMICA
PROCESO DE NIVELACIONES PRIMER SEMESTRE
2018
MATEMATICAS GRADO PRIMERO
(Cuestionario de repaso)



Nombre: _____ Fecha: _____ Curso: _____

1. colorea según la indicación
 - de verde el segundo lápiz.
 - de azul el quinto lápiz.
 - de amarillo el cuarto lápiz.
 - de rojo el tercer lápiz.
 - de café el primer lápiz



2- escribe el número que sigue

88 _____

33 _____ 36 _____ 41 _____


90 _____

17 _____ 20 _____

50 _____ 58 _____

3. ubica en la casilla los siguientes números

	d	u
38		
22		
46		
74		
50		
19		
88		



	d	u
	3	1
	6	0
	9	2
	1	6
	7	5
	1	1
	8	6

4. colorea la respuesta correcta de cada suma:

$10+1=$ 2 34 11

$9+4=$ 13 5 1

$10+5=$ 10 15 6

5. resuelve las restas

$$\begin{array}{r} 55 \\ - 54 \\ \hline \end{array} \quad \begin{array}{r} 25 \\ - 00 \\ \hline \end{array} \quad \begin{array}{r} 24 \\ - 11 \\ \hline \end{array} \quad \begin{array}{r} 34 \\ - 13 \\ \hline \end{array} \quad \begin{array}{r} 19 \\ - 07 \\ \hline \end{array}$$

$$\begin{array}{r} 76 \\ - 12 \\ \hline \end{array} \quad \begin{array}{r} 62 \\ - 60 \\ \hline \end{array} \quad \begin{array}{r} 39 \\ - 28 \\ \hline \end{array} \quad \begin{array}{r} 58 \\ - 45 \\ \hline \end{array} \quad \begin{array}{r} 65 \\ - 31 \\ \hline \end{array}$$

6. observa cuántas figuras hay de cada una y completa la tabla:

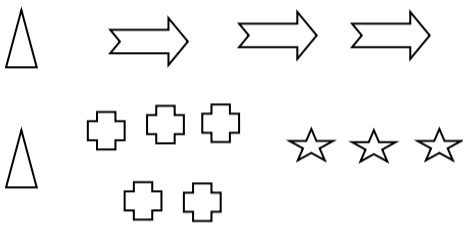


figura	cantidad
estrellas	
cruces	
triángulos	
flechas	

7. realiza las restas (disminuir- quitar)

$8-2=$

$6-3=$

$9-3=$

$7-2=$

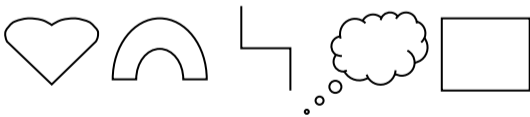
8. escribe el número que falta:

10 ___ 12 ___ 14 ___ 16 ___ 18 ___

20 ___ 40 ___ 60 ___ 80 ___ 100

30 ___ 40 ___ 50 ___ 60 ___ 70 ___

9. marca una x a los dibujos que tienen líneas curvas.



10. dibuja una decena de colombinas.



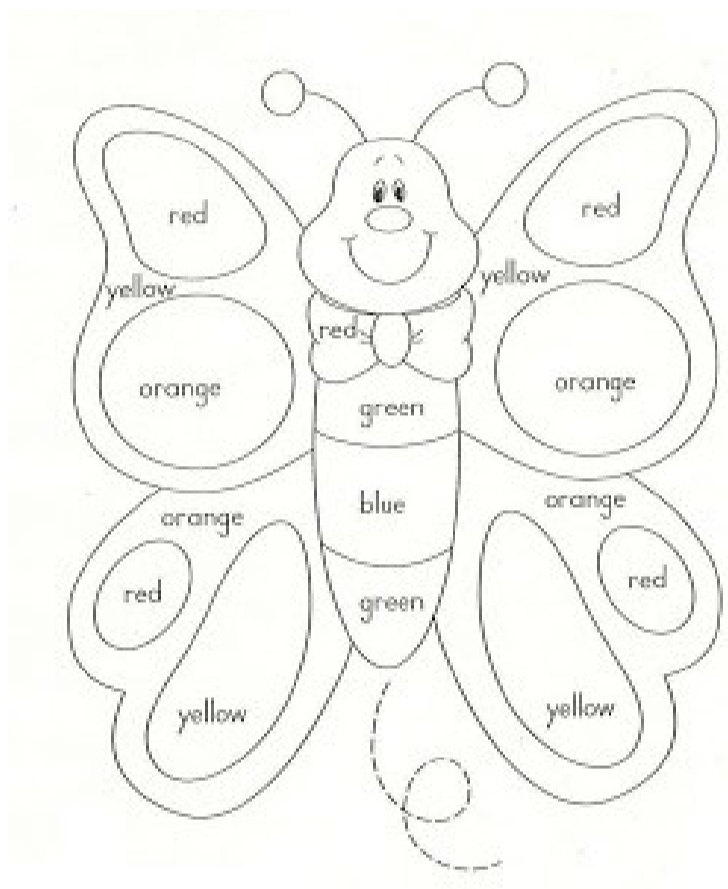
11. escribe los números pares del 2 al 50, al respaldo



INGLES PRIMERO
(Cuestionario de repaso)

Nombre: _____ Fecha: _____ Curso: _____

1. Colorea la mariposa



2. une según corresponda

2	→	one
5		six
1		four
6		two
7		nine
4		eight
9		five
3		seven
8		three

3. Recorta y pega los números del 11 al 20 y escribe el nombre

4. Escribe los números ordinales en ingles del 1 al 10

5. Realiza un acróstico de tu nombre y por cada letra escribe una palabra en inglés.




LICEO ANTONIO DE TOLEDO
COORDINACIÓN ACADÉMICA
PROCESO DE NIVELACIONES PRIMER SEMESTRE
2018
CIENCIAS PRIMERO
(Cuestionario de repaso)



Nombre: _____ Fecha: _____ Curso: _____

1. Escribe las partes del cuerpo del niño



2. Escribe tres cuidados que debes tener con tu cuerpo

3. Dibuja los cinco sentidos

4. Une con una línea



5. Escribe si son seres vivos o seres inertes



6. Escribe tres ejemplos de seres inertes y tres de seres vivos

Escribe y dibuja que sucede en cada fase de la planta

7. Nace	8. Crece	9. Reproduce	10. muere



SOCIALES PRIMERO
(Cuestionario de repaso)

Nombre: _____ Fecha: _____ Curso: _____

1. Decora el nombre de tu colegio

Liceo Antonio de Toledo

2. Escribe el nombre de la coordinadora

3. Dibuja la parte del colegio donde vas cuando te enfermas

4. Selecciona quien te representa en el gobierno escolar

- a. Personero
- b. Contralor
- c. Maestro shifu
- d. Representante de curso

5. Dibuja
Shifu
6. une



como fue la elección del maestro

según corresponda

7. Dibuja el medio de transporte que más usas
8. Escribe que son señales de tránsito informativas
9. Dibuja una señal preventiva
10. Pega una señal reglamentaria