



LICEO ANTONIO DE TOLEDO
COORDINACIÓN ACADÉMICA
PROCESO DE NIVELACIONES PRIMER SEMESTRE
2018



Ciencias Naturales 4°
(Cuestionario de repaso)

Nombre: _____ Fecha: _____ Curso: _____

1. ¿diga cuáles son las tres funciones vitales que realizan las células, explicando la importancia de cada una?
2. ¿mencione los 3 organelos en común que tienen las células y su función?
3. ¿elabore un dibujo de la célula, ubicando sus organelos?
4. ¿realice un cuadro comparativo entre la célula animal y vegetal, mencionando los organelos exclusivos de cada célula?
5. ¿nombre las diferentes células que existen de acuerdo a su forma y tamaño y la función que realizan?
6. ¿expresar las diferencias que existen entre célula eucariota y procarionta, de 2 ejemplos de cada una de las células?
7. ¿realice un dibujo de una bacteria y ubique cada una de sus partes y su función?
8. ¿explica en que consiste la reproducción sexual y que características presenta?
9. ¿explica en que consiste la reproducción asexual y que características presenta?
10. ¿diga los diferentes tipos de reproducción asexual que existen y que consiste cada una?
11. ¿diseña un cuadro comparativo entre animales y plantas, con características relevantes?
12. ¿explica de una forma clara el proceso que ocurre en el sistema digestivo al ingerir un alimento y cuáles órganos son los que interfiere?
13. ¿nombra dos enfermedades del sistema digestivo y que síntomas presentan?
14. ¿realiza un dibujo del sistema digestivo, nombrando cada órgano y su función?
15. ¿explica de una forma clara el proceso del sistema respiratorio, cuáles órganos son los que interfiere e importancia tiene para nuestro sistema?
16. ¿nombra dos enfermedades del sistema respiratorio y que síntomas presentan?
17. ¿realiza un dibujo del sistema respiratorio, nombrando cada órgano y su función?



MATEMÁTICAS GRADO CUARTO

(Cuestionario de repaso)

Nombre: _____ Fecha: _____ Curso: _____

1. Realiza la unión de los siguientes conjuntos.

$$A = \{ a, e, i, o, u \}$$

$$B = \{ 1, 2, 3, 4, 5, 6, 9 \}$$

$$C = \{ m, p, a, o, s, t \}$$

$$D = \{ 3, 0, 2, 4, 8 \}$$

A U C

B U D

2. Realiza la descomposición de cada número siguiendo el ejemplo

$$8'567.457 = 8'000.000 + 500.000 + 60.000 + 7.000 + 400 + 50 + 7$$

- 4'244.789
- 6'459.799
- 3'600.874
- 365.789

3. Ubica los siguientes números en la tabla de valor posicional

- 348.567
- 278.098
- 9'374.898
- 56.034

Um	CM	DM	UM	C	D	U

4. Escribe como se leen los siguientes números

- 5'788.909
- 4'866.567
- 8'826.506
- 299.094

5. Lee y escribe los siguientes números

- Dos millones ciento setenta y ocho mil cuatrocientos noventa y seis
- Un millón noventa mil ciento veintitrés
- Cincuenta y ocho mil novecientos seis
- Un millón cien mil uno

6. Compara los siguientes números y escribe si es < ó >

- 478.567 _____ 467.678
- 389.456 _____ 390.123
- 88.090 _____ 84.459
- 1.001 _____ 1.000

7. Completa la tabla.

ANTERIOR	NÚMERO	SIGUIENTE
458.988	458.989	458.990
	389.895	
	999.000	
	678.889	
	654.678	
	534.889	

8. Ordena los siguientes números de mayor a menor y luego de menor a mayor.

- 365.456 – 187.345 – 278.345 – 364.467 – 897.456 – 808.934 – 270.456

9. Realiza las siguientes conversiones.

Dos libras = _____ kilos

Cuatro kilos = _____ Libras

1000 gramos = _____ Libras

2.000 gramos = _____ Kilos

1000 ml = _____ litro

500 ml = _____ litro

1.500 ml = _____ litro

10. Resuelve las siguientes sumas y restas

a) $32,758 + 54,231$

b) $132,546 + 41,321$

a) $53,768 - 12,434$

b) $235,678 - 23,456$

11. Resuelve las siguientes multiplicaciones y divisiones

• $569 \overline{)5}$

• $785 \overline{)7}$

$$\begin{array}{r} 1223 \\ \times 75 \\ \hline \end{array}$$

• $1815 \overline{)2}$

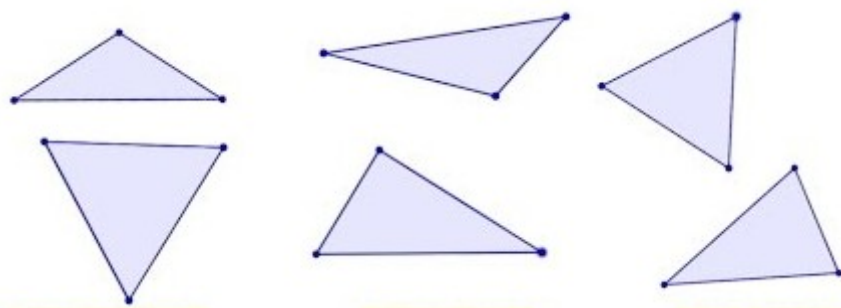
• $2418 \overline{)3}$

$$\begin{array}{r} 2154 \\ \times 86 \\ \hline \end{array}$$

12. Soluciona los siguientes problemas teniendo en cuenta análisis, operación y respuesta.

- Panaca es el parque agropecuario de Colombia, en este lugar hay 632 animales de los cuales 272 son gallinas, 134 son patos, 137 ovejas, el resto son cerdos ¿Cuántos cerdos hay en la granja?
- Don Beto lleva en su camión 124 cajas con 6 melones cada una. ¿Cuántos melones llevará en total?
- En una granja se recogen 386 huevos diariamente, ¿Cuántos huevos se recogerán en total en 8 días?

13. Clasifica los siguientes triángulos según la medida de sus lados.



14. Resuelve las siguientes operaciones.

a. $(456 + 467) \times (35 - 9)$

b. $(45 - 12) + (46 \times 6)$

15. Dibuja algunos ejemplos de cuadriláteros y clasifícalo



LICEO ANTONIO DE TOLEDO
COORDINACIÓN ACADÉMICA
PROCESO DE NIVELACIONES PRIMER SEMESTRE
2018



PASTORAL
GRADO CUARTO

(Cuestionario de repaso)

Nombre: _____ Fecha: _____ Curso: _____

1. ¿Cuáles son los elementos de la vocación, explica?
2. Consulta sobre la parábola del hijo prodigo, elabora un resumen, dibuja.
3. Haz un listado de los milagros de Jesús. Explica y dibuja.
4. ¿Cuáles son los mandamientos, Explica y dibuja?
5. Consulta la biografía de los siguientes personajes.
 - a. Abraham
 - b. Moisés
 - c. David
 - d. Noé
6. Qué significa la palabra patriarca.
7. ¿Cuáles son los elementos más importantes de la vida de los primeros cristianos?
8. Consulta las siguientes citas bíblicas, explicación, dibujos.
 - a. Mateo 4,25
 - b. Lucas 10,1
 - c. Marcos 3,13,15
8. Pega la foto de papá o mamá y de forma creativa escribe los sacramentos que han recibido y explica.
9. Explica los sacramentos de iniciación, curación, para misiones especiales.
10. Dibuja y explica el significado de los símbolos del bautismo.
11. Consulta los frutos del espíritu santo y a través de un dibujo creativo, explícalos.



LICEO ANTONIO DE TOLEDO
COORDINACIÓN ACADÉMICA
PROCESO DE NIVELACIONES PRIMER SEMESTRE
2018
CIENCIAS SOCIALES
GRADO CUARTO
(Cuestionario de repaso)



Nombre: _____ Fecha: _____ Curso: _____

1. Consulta el concepto de las siguientes palabras.

- a. Humedal.
- b. planisferio
- c. plano
- d. Paralelo
- e. Cartografía

2. Consulta los elementos del mapa y ubícalos en el mapa de Colombia, explica

- a. Qué es una zona biográfica, explica cada una de ellas y en el mapa de Colombia ubícalas.
- b. En una tabla comparativa indica las diferencias entre los manglares de la costa Atlántica y la costa pacífica.
- c. ¿Qué elementos crees que existen en común entre páramos, humedales, y manglares?

6. ¿Por qué son importantes los páramos para los seres vivos? Elabora un dibujo.

7. Explica cada una de las etapas del poblamiento de Colombia.

9. Elabora un cuadro comparativo con las culturas indígenas Taironas, Muiscas. Teniendo en cuenta aspectos:

- a. Ubicación geográfica (mapa de Colombia)
- b. Organización social
- c. Aspecto económico
- d. Creencias y ritos

10. Consulta los significados: bandas, cacicazgos, clanes, sedentario, nómada tumbaga, zoomorfas, terraza, tumbaga, cera perdida.

11. Elabora un cuadro comparativo con las culturas indígenas aztecas. Teniendo en cuenta los siguientes aspectos.

- a. Ubicación geográfica
- b. Organización social
- c. Aspecto económico
- d. Creencias y ritos

NOTA. Presentar el cuestionario en hojas de block cuadrículado



ESPAÑOL 4°
(Cuestionario de repaso)

Nombre: _____ Fecha: _____ Curso: _____

1. Completa:

Los sustantivos son las palabras que nos indican el nombre de las _____, de los _____, de las _____, de los _____, de las _____.

2. Lee atentamente el siguiente texto.

Maitencillo, 8 de enero de 2013

Queridos nietecitos:

¿Cómo están? Aquí en el campo todos estamos bien, trabajando y cultivando la tierra. Como ya faltan pocas semanas para que salgan de vacaciones, les escribo con el fin de que planifiquemos su viaje a estas tierras. Quisiera saber qué día estarán aquí y si vendrán solos o invitarán a un amiguito.

Si vienen la primera semana de enero, se encontrarán con que Canela tendrá su potrillito. Así podrán cuidarlo y acariciarlo. Estaremos en plena cosecha de frutillas, por lo que podremos cocinar ricas tortas y mermeladas. Además, es buen período para mirar los ramilletes coloridos y caminar por el pinar.

El tata me pide que les recuerde traer hilo para ir a pescar al lago, y que les diga que los espera impaciente.

Un beso grande de su abuela que los quiere,

Berta

Busca en el texto dos ejemplos para cada uno de los siguientes tipos de sustantivos:

Sustantivo	Ejemplos
colectivo	
común	
individual	
propio	

3. Busca en internet el cuento “El reino de los tres colores” (Autor texto: José Miguel de la Rosa Sánchez) imprímelo y subraya de verde: sustantivo, Azul: artículos, rojo y adjetivo: naranja, Después realiza una tabla y clasifícalos (tipo de sustantivo – tipo de articulo y adjetivo).
4. Realiza un mentefacto sobre el cuento y sus clases (Suspenso o terror, policial y ciencia ficción)

5. Elabora un mapa conceptual de los elementos del cuento.
6. 6. Identifica los elementos del cuento, en el cuento “El robot guardaespaldas” (internet) y determina a qué clase de cuento pertenece.
7. Realiza una línea del tiempo de los medios de transporte. Sustentarla.

Escribe g o j según corresponda.

- 8.
- ___u___ando con el ___ato me rompió las ___afas.
 Al ___usano de seda le ___usta la ho___a de morera.
 El ___a___ua ___oteaba encima de una ___oma.
 Reco___imos en la huerta ___uindas, ___uindillas y ___uisantes.
 Tuvimos que ___irar para evitar un campo de ___irasoles.
 Es una ver___üenza que no haya un para___üero para el para___üas.
 De noche, ante la ho___uera, sólo se oía el canto de los ___rillos.
 Por lo ___eneral, siempre hay mucha ___ente a esas horas.
 La célebre y le___endaria actriz era muy foto___énica

9. Escribe 10 oraciones y subraya de azul el sujetos y de verde el predicado.
10. Escribe 4 oraciones según la intención del hablante. (Enunciativas, interrogativas, exclamativas e imperativas).
11. Elabora tu autobiografía empleando fotografías, escribiendo datos y fechas importantes.
12. Ingresa al siguiente link: <https://www.youtube.com/watch?v=HbV-3YUcjk8> y realiza un esquema del tema.
13. Separa por silabas las siguientes y clasificalas en Diptongo o Hiato.
 - puerta – día – ganadería – liebre – tienen – suelo – sueldo – caoba – miel – bueno – quieres – quería – canoa – aeroplano – rio – miedoso – ciencia – fantasía – poseer – Dios – causa - Raúl.
14. Escribe que son los textos informativos.
- 15 Realiza un texto informativo teniendo en cuenta su estructura.

Nota: El cuestionario se debe presentar totalmente diligenciado en hojas de examen con buena presentación sin tachones, de lo contrario no se realizara el proceso de nivelación.









LICEO ANTONIO DE TOLEDO
COORDINACIÓN ACADÉMICA
PROCESO DE NIVELACIONES PRIMER SEMESTRE
2018



ENGLISH FOURTH
(Cuestionario de repaso)

Nombre: _____ Fecha: _____ Curso: _____

1. Match

	Short
	Fast
	Big
	Tall
	Fat
	Slow

2. With the last adjectives write 3 sentences using comparatives

3. _____

4. _____

5. _____

3. With the last adjectives write 3 sentences using superlatives

A. _____

B. _____

C. _____

4. Create 5 questions using comparatives

A. _____

B. _____

C. _____

D. _____

E. _____

5. Create 5 questions using superlatives













A. _____

B. _____

- C. _____
- D. _____
- E. _____

6. Organize the following words (Superlatives)
- A. Brazil / the/ is / in the world / biggest / country.
 - B. Is / Valery / tallest / in 4th / the.
 - C. Peru / in south America/ are / beautiful / most / Colombia / and / the / countries

7. Organize the following words (Comparatives)
- A. Than / Dominick / is / Jhoan / thinner.
 - B. Russia / bigger/ than/ France/ is.
 - C. Colder / is / Canada/ than / Mexico
8. Answer the questions according to the image

 HANS	 NELSON	 CARLOS	 PATRICK
 MANUEL	 ALI	 LIEKE	 PIOTR
 JOE	 ANONG	 PAUL	 BOB

1. Hans is from _____.
2. Nelson is from _____.
3. Carlos is from _____.
4. Patrick is from _____.
5. Manuel is from _____.
6. Ali is from _____.
7. Lieke is from _____.
8. Piotr is from _____.
9. Joe is from _____.
10. Anong is from _____.
11. Paul is from _____.
12. Bob is from _____.

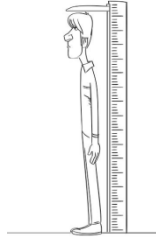
1. He is _____.
2. He is _____.
3. He is _____.
4. He is _____.
5. He is _____.
6. He is _____.
7. She is _____.
8. He is _____.
9. He is _____.
10. She is _____.
11. He is _____.
12. He is _____.

9. Write the meaning of the following adjectives.

- a. Thin:
- b. Strong:
- c. Strange:
- d. Slow:
- e. Tall:
- f. Fat:
- g. Ugly:
- h. Beautiful:
- i. Handsome:
- j. Big:

10. Answer the questions according to the image

Is he small?



A. Is she fat?



11. Write all of personal pronouns that you know

12. What is an adjective?

13. In which moment we can use the verb to be?

14. In which moment we use are?

15. In which moment we use is?



LICEO ANTONIO DE TOLEDO
COORDINACIÓN ACADÉMICA
PROCESO DE NIVELACIONES PRIMER SEMESTRE
2018



INFORMÁTICA 4°
(Cuestionario de repaso)

Nombre: _____ Fecha: _____ Curso: _____

1. ¿Qué es la tecnología?
2. Dibuje 10 artefactos tecnológicos del hogar
3. ¿Quiénes son los beneficiarios de la tecnología?
4. ¿Quiénes son los beneficiados de la tecnología?
5. Dibuje 5 artefactos tecnológicos indicando su artefacto antecesor
6. ¿qué es la multimedia?
7. Realice un cuadro describiendo las características de cada uno de los elementos de la multimedia.
8. Haga un listado de los artefactos tecnológicos que influyen y ayudan en la educación (mínimo 10)
9. Del listado anterior, escoge 4 artefactos que usted más utilice y descríbalos, indicando ¿por qué son importantes para usted?
10. Dibuje los artefactos tecnológicos con los que cuenta el colegio.

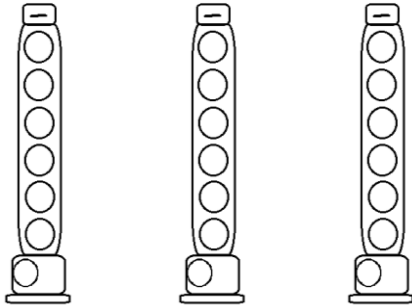
NOTA: El presente cuestionario, se debe realizar en hojas cuadrículadas tamaño carta y entregar en sobre de manila debidamente marcado con Nombre completo y curso.



LICEO ANTONIO DE TOLEDO
CUESTIONARIO DE REPASO
GRADO CUARTO - SEMESTRE I
MÚSICA
2018

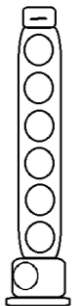


1. ¿Cuáles son las notas de la escala mayor de Do?
2. ¿Cuánto dura una blanca?
3. ¿Cuál es el valor de una negra?
4. ¿Cuál es el valor de una corchea?
5. ¿Cuál es el valor del silencio de negra?



6. Dibuja las notas Sol, La y Si desde el croquis de la flauta.

7. Identifica los tiempos de cada figura en el ejercicio escribiéndolo debajo de ellas. (Lee el ejercicio teniendo en cuenta los tiempos).



8. Dibuja las nota Do8 en el croquis de la flauta.

9. Describe las diferencias y similitudes de la escala diatónica y pentatónica.
10. Estudia e interpreta las melodías “El pastel Caliente” y “Pesca, pesca, pescador”. Puedes practicar con la página de estudio: <http://tareasdemusicaltoledo.blogspot.com.co/2016/02/grado-3.html>

NOTA: Para el refuerzo es necesario tener resuelto completamente éste cuestionario y llevar cuaderno y flauta para realizar práctica.



LICEO ANTONIO DE TOLEDO
COORDINACIÓN ACADÉMICA
PROCESO DE NIVELACIONES PRIMER SEMESTRE
2018



Nombre: _____ Curso: _____ Fecha: _____

EDUCACION FISICA 4°
Cuestionario de repaso

De acuerdo a las temáticas planteadas durante el primer semestre académico y sus consultas por realizar, responda de forma correcta y argumentada las siguientes preguntas.

1. Que es el equilibrio?

2. Como está compuesto el equilibrio en el ser humano?

3. Que es equilibrio dinámico?

4. Que es equilibrio estático?

5. Que es lateralidad?.

6. Que elementos componen la lateralidad en los seres humanos?

7. Mencione 5 ejemplos de trabajos que correspondan o ayuden al desarrollo de la lateralidad en los seres humanos

8. Que es la ubicación espacial?

9. Como se desarrolla la ubicación espacial?

10. Que es y cómo trabaja el centro de gravedad?.

RECUERDE QUE PARA LA PRESENTACIÓN DE SU EXAMEN DE NIVELACIÓN ES NECESARIO QUE ENTREGUE TODO EL CUESTIONARIO COMPLETO.

Diego Alejandro Rivera Rico
Lic. En educación básica con énfasis en Educación Física Recreación y Deporte